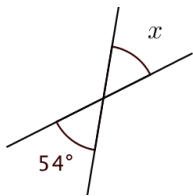


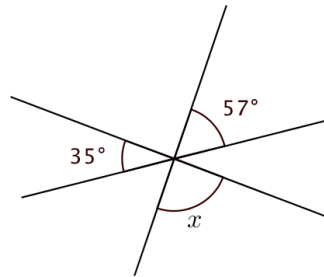
問題

(1) 下の図で、 $\angle x$ 、 $\angle y$ の大きさを求めなさい。(③~⑥は $l \parallel m$ とする。)

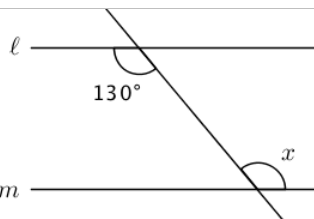
①



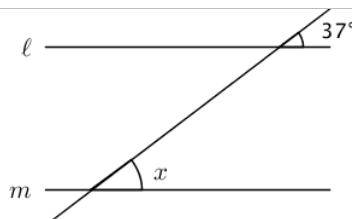
②



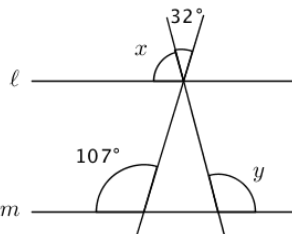
③



④



⑤



⑥

