

問題

(1) 次の問いに答えなさい。

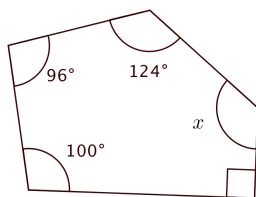
① n 角形の内角の和を n を使った式で表しなさい。

② 八角形の内角の和は何度か求めなさい。

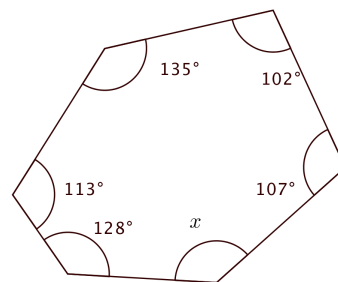
③ 正十角形の1つの外角は何度か求めなさい。

(2) 下の図で、 $\angle x$ の大きさを求めなさい。

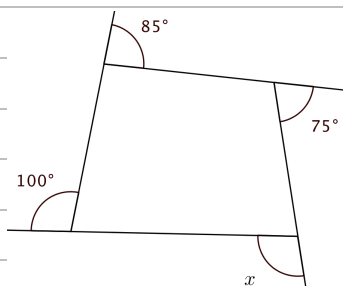
①



②



③



④

