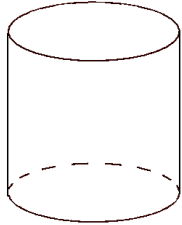


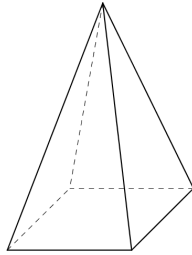
問題

(1) 次の立体について、次の問いに答えなさい。

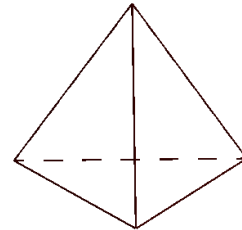
ア



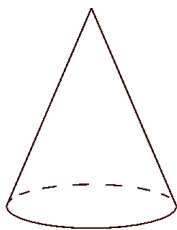
イ



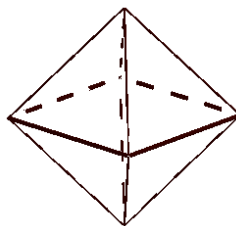
ウ



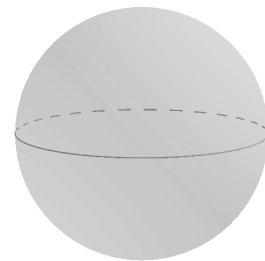
エ



オ



カ



① ア～カの立体の名前をそれぞれいいなさい。ウとオは正多面体です。

ア

イ

ウ

エ

オ

カ

② 多面体はどれですか。すべて記号で答えなさい。

③ ウとオ以外の正多面体の名前を全て答えなさい。